

FORMULAIRE D'ELECTRONIQUE

E18

CIRCUITS TRIPHASES

CIRCUITS TRIPHASES : Un générateur de tensions triphasées (montages en étoile et en triangle) fournit trois tensions alternatives de même amplitude décalées d'un tiers de période.

1. Montage en étoile

I phase = I enroulement

V entre phases = V enroulement $\times \sqrt{3}$

Remarques

- La tension monophasée est la tension entre phase et neutre.
- La valeur de $\sqrt{3}$ est 1,732.

Application numérique

Pour une tension monophasée de 220 V, la tension entre phases est de $220 \times 1,732$, soit 380 V.

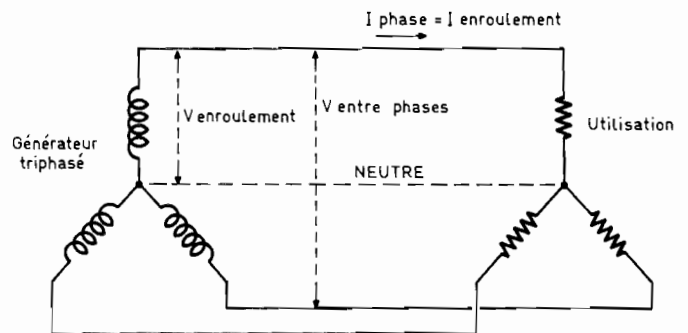
2. Montage en triangle

I phase = I enroulement $\times \sqrt{3}$

V entre phases = V entre enroulements

Dans les montages triphasés (en étoile et en triangle), la puissance apparente est égale à trois fois la puissance fournie par un enroulement.

P apparente = 3 (I enroulement \times V enroulement)



Calcul

MANIPULATION DES VALEURS COMPLEXES

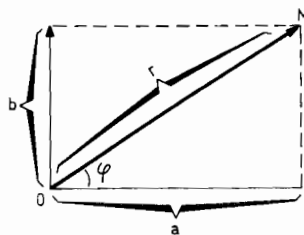
VALEURS COMPLEXES : Leur utilisation permet de simplifier considérablement le calcul des circuits en alternatif.

Le vecteur incliné OM de longueur r et de décalage φ peut être représenté sous plusieurs formes :

- Forme cartésienne (ou rectangulaire)

$$OM = a + jb$$

a = terme « réel »
jb = terme « complexe » ou « imaginaire ».



- Forme exponentielle

$$OM = r e^{j\varphi}$$

r = longueur du vecteur OM (ou « module »)
 φ = décalage du vecteur OM (ou « argument ») par rapport à l'axe des abscisses (axe horizontal)
e = base des logarithmes népériens (= 2,71828).

- Forme polaire

$$OM = r / \varphi$$

- Forme trigonométrique

$$OM = r (\cos \varphi + j \sin \varphi)$$

Remarques

- « jb » n'est pas un produit de facteurs, il symbolise seulement un vecteur vertical de longueur égale à b ;
- dans les développements de calculs, on utilise les relations :

$$\frac{1}{j} = -j \quad \text{et} \quad j = \sqrt{-1}$$

$$\text{soit : } j^2 = -1, j^3 = -j, j^4 = +1 \dots$$

Calcul de r et de φ , connaissant a et b

$$r = \sqrt{a^2 + b^2} \quad \varphi = \arctg \frac{b}{a}$$

Calcul de a et b, connaissant r et φ

$$a = r \cos \varphi \quad b = r \sin \varphi$$

OPERATIONS COMPLEXES

- Egalité

$$(a + jb) = (c + jd), \text{ si } a = c \text{ et } b = d$$

- Addition

$$(a + jb) + (c + jd) = (a + c) + j(b + d)$$

FORMULAIRE D'ELECTRONIQUE

En considérant la tension entre phases, et le courant ligne :

$$P \text{ apparente} = \sqrt{3} (I \text{ ligne} \times V \text{ entre phases})$$

Dans les deux montages, la puissance active est donnée par la formule :


$$P \text{ active} = P \text{ apparente} \times \cos \varphi$$

Unités :

- puissance « apparente » en volt-ampères (VA) ;
- puissance « active » en watts (W).

Application numérique

Un générateur triphasé en étoile fournit une tension de 5 000 V entre phases. Le courant dans chaque phase est de 20 A. Le générateur alimente une installation dont le $\cos \varphi$ est de 0,90. On désire connaître la tension entre phase et neutre, ainsi que la puissance apparente et la puissance active du générateur.



Tension entre phase et neutre : $5\,000 / 1,732 = 2\,886,83 \text{ V}$.

Puissance apparente fournie par un enroulement : $2\,886,83 \times 20 = 57\,736,72 \text{ VA}$ ou $57,73 \text{ kVA}$.

Puissance apparente fournie par le générateur : $57,73 \times 3 = 173,2 \text{ kVA}$.

Puissance active fournie par le générateur : $173,2 \times 0,90 = 155,9 \text{ kW}$.

NOTES.....
.....
.....

- Soustraction

$$(a + jb) - (a + jd) = (a - c) + j(b - d)$$

● Remarque pratique : L'addition et la soustraction de nombres complexes ne peuvent s'effectuer que lorsque les quantités sont sous la forme cartésienne.

- Produit

module = produit des modules
décalage = somme des décalages

$$z_1 \cdot z_2 = r_1 \cdot r_2 / \varphi_1 + \varphi_2$$

● Remarque importante : $(a + jb)(a - jb) = a^2 + b^2$

- Division

module = quotient des modules
décalage = différence des décalages

$$\frac{z_1}{z_2} = \frac{r_1}{r_2} / \varphi_1 + \varphi_2$$

- Inverse

module = inverse du module
décalage = le même, mais changé de signe

$$\frac{1}{r/\varphi} = \frac{1}{r} / -\varphi$$

- Puissance n

module = module à la puissance n
décalage = décalage n fois plus grand

$$z^n = r^n / n\varphi$$

● Formulaire de Moivre :

$$(\cos \varphi + j \sin \varphi)^n = \cos n\varphi + j \sin n\varphi$$

- Racine carrée

module = racine carrée du module
décalage : décalage divisé par 2

$$\sqrt{z} = \sqrt{r} / \varphi/2$$

Remarques

1° Suppression de $a + jb$ au dénominateur :
on multiplie par $(a - jb)$ le numérateur et le dénominateur.

Ceci donne : $(a + jb)(a - jb) = a^2 - b^2$;
les j disparaissent (la quantité $a - jb$ est appelée la valeur conjuguée de $a + jb$).

2° Rotation d'un vecteur d'un angle α quelconque : il suffit de multiplier son expression complexe par $(\cos \alpha + j \sin \alpha)$. On prend le signe + ou le signe - suivant le sens de rotation.

Application numérique

Se reporter aux fiches : impédance (forme complexe) et résonance.

E19

IMPEDANCE (FORME COMPLEXE)

IMPEDANCE COMPLEXE : L'utilisation du facteur j dans le calcul des circuits en régime alternatif sinusoïdal présente des avantages de simplicité et de rapidité.

$Z = R \pm jX$
(formule générale : résistance en série avec une réactance)

$Z = R + jL\omega$ (résistance en série avec une inductance)

$Z = R - \frac{j}{C\omega}$ ou $Z = R + \frac{j}{C\omega}$ (résistance en série avec un condensateur)

$Z = R + jL\omega - \frac{j}{C\omega}$ (résistance, inductance et condensateur en série)

Le facteur j est également utilisé dans la représentation d'une impédance sous la forme : $Z e^{j\varphi}$ ou Z / φ

avec Z = valeur réelle de l'impédance en ohms (Ω).

$$Z = \sqrt{R^2 + X^2}$$

et φ = angle de déphasage (en degrés ou en radians) du courant dans l'impédance par rapport à la tension à ses bornes.

$$\varphi = \arctg \frac{X}{R}$$

e = base des logarithmes népériens (2,71828)

R = résistance du circuit en ohms (Ω)

X = réactance du circuit en ohms (Ω) (voir fiche E15 : Réactance et impédance).

Connaissant Z et le déphasage φ , les valeurs de R et X sont données par les formules :

$$R = Z \cos \varphi \text{ et } X = Z \sin \varphi$$

Un signal alternatif sinusoïdal (tension ou courant) peut aussi être représenté sous la forme complexe :

$$v = V \sin(\omega t \pm \varphi) \text{ (forme classique)}$$

$$v = V (\cos \varphi \pm j \sin \varphi) \text{ (forme trigonométrique)}$$

$$v = V e^{\pm j\varphi} \text{ ou } v = V / \pm \varphi \text{ (formes exponentielle et polaire)}$$

(Se reporter la fiche E13 : Déphasage.)

Application numérique

On désire connaître les valeurs des composants R et X de l'impédance $700 / + \mu/3$.

Ces valeurs sont :

$$R = 700 \cos \pi/3 = 350 \Omega, \text{ et } X = 700 \sin \pi/3 = 606 \Omega.$$

GROUPEMENT D'IMPEDANCES

- En série : $Z = z_1 + z_2$
 $= (a_1 + j b_1) + (a_2 + j b_2)$
 $= (a_1 + a_2) + j (b_1 + b_2)$

avec a = composante résistive, et b = composante réactive.

- En parallèle : $Z = \frac{z_1 \times z_2}{z_1 + z_2}$

E20

RESONANCE

RESONANCE : Il y a résonance dans un circuit alternatif lorsque la réactance capacitive compense exactement la réactance inductive.

La résonance a lieu lorsque : $L\omega = \frac{1}{C\omega}$

RESONANCE SERIE

L'impédance Z ($= \sqrt{R^2 + (L\omega - 1/C\omega)^2}$) prend la valeur : $Z = R$ d'où les relations suivantes :

$$LC\omega^2 = 1 \quad \omega = \frac{1}{\sqrt{LC}}$$

Fréquence de résonance

$$F = \frac{1}{2\pi \sqrt{LC}} \text{ (formule de base, dite « de Thomson »)}$$

F = fréquence pour laquelle apparaît la résonance, en hertz (Hz)

L = inductance en henrys (H)

C = capacité en farads (F)

$\pi = 3,1416$.

$$LCF^2 = 253 \times 10^2 \text{ (formule pratique)}$$

F = fréquence de résonance en mégahertz (MHz)

L = inductance en microhenrys (μH)

C = capacité en picofarads (pF).

Coefficient de surtension

$$Q = \frac{X}{R} \text{ soit : } Q = \frac{L\omega}{R} \text{ ou } Q = \frac{1}{RC\omega}$$

La valeur Q renseigne sur la qualité du circuit. C'est le nombre de fois qu'il faut multiplier la tension appliquée V pour obtenir les tensions V_L et V_C .

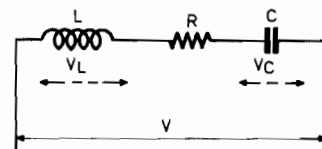
Caractéristiques d'une résonance série

- L'impédance du circuit série est minimale ($Z = R$).

- Le courant I est maximal ($I = V/R$).

- La tension V_C aux bornes de C est égale à la tension V_L aux bornes de L. Ces tensions sont égales à la tension appliquée V multipliée par Q ($V_C = V_L = V \times Q$).

- Le courant I est en phase avec la tension V.



Application numérique

Quelle est la fréquence de résonance du circuit ci-contre ? Quelle est la valeur de la tension aux bornes de C à la résonance, si la tension V du générateur est de $500 \mu V$?

FORMULAIRE D'ELECTRONIQUE

Admittance

$$y = \frac{1}{z} = \frac{1}{r/\varphi} = \frac{1}{r} / -\varphi$$

$$\text{soit } \frac{1}{\sqrt{a^2 + b^2}} / -\arctg \frac{b}{a} \text{ (forme polaire)}$$

On a également :

$$y = \frac{1}{a + jb} = \frac{a - jb}{a^2 + b^2} \text{ (forme rectangulaire)}$$

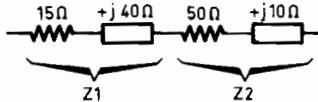
Remarque

+ j en impédance donne - j en admittance.

Applications numériques

1° Quelle est la valeur de l'impédance constituée de Z_1 et Z_2 en série.

$$\begin{aligned} Z &= (15 + j40) + (50 + j10) \\ &= (15 + 50) + j(40 + 10) \\ &= 65 + j50 \end{aligned}$$



Valeur réelle de l'impédance :

$$\sqrt{(65)^2 + (50)^2} = \sqrt{4\,225 + 2\,500} = 82 \, \Omega$$

Déphasage φ apporté par l'impédance : $\arctg 50/65 = 0,65$ radians ou $37,5^\circ$.

2° Rechercher la valeur de l'impédance du circuit ci-contre, ainsi que la valeur du courant I.

Les deux branches ont pour impédance : $z_1 = 10 + j5$ et $z_2 = -j5$.

La valeur de l'impédance du circuit parallèle est donnée par la formule :

$$Z = \frac{z_1 \times z_2}{z_1 + z_2}$$

soit

$$\frac{(10 + j5)(-j5)}{10 + j5 - j5} = \frac{25 - j50}{10} = 2,5 - j5 \text{ (forme cartésienne)}$$

La valeur réelle de l'impédance est donnée par :

$$Z = \sqrt{R^2 + X^2}, \text{ soit } \sqrt{(2,5)^2 + (5)^2} = 5,6 \, \Omega.$$

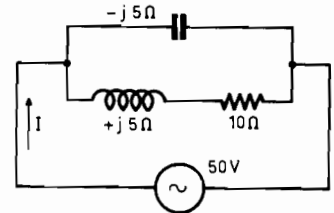
L'angle de déphasage est : $\arctg \frac{-5}{2,5}$ soit $-63,43^\circ$.

L'impédance présentée sous la forme exponentielle est : $5,6 / -63,43^\circ$.

Le courant dans le circuit est : $I = V/Z$, soit :

$$\frac{50}{5,6 / 63,43^\circ} = 8,9 / +63,43^\circ \text{ ampères.}$$

Le courant, présenté sous la forme classique, est : $I = 8,9 \sin(\omega t + 63,43^\circ)$ ampères.



La formule pratique nous donne :

$$f^2 = \frac{253 \times 10^2}{40 \times 220} = 2,875$$

soit la fréquence de résonance : $f = 1,695$ MHz.

Le coefficient de surtension Q est égal à :

$$\frac{L\omega}{R} = \frac{40 \times 10^{-6} \times 1,695 \times 10^6 \times 2 \times 3,14}{3} \approx 142$$

La tension aux bornes de C est :

$$500 \times 10^{-6} \times 142, \text{ soit } 71 \text{ mV.}$$

Résonance parallèle (ou « antirésonance »)

La condition de résonance est la même que pour la résonance série.

La fréquence de résonance est donnée par la même formule.

Le courant I dans le circuit est en phase avec la tension appliquée U, mais :

- l'impédance du circuit est maximale :

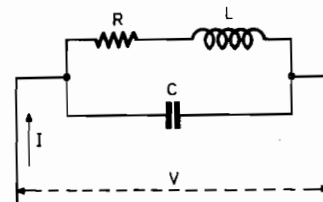
$$Z = \frac{L}{CR}$$

- le courant I est minimal ;

- le courant dans la branche inductrice est égal au courant dans la branche capacitive. Ces courants sont égaux au courant I multiplié par Q ($I_L = I_C = I \times Q$)

Application numérique

Retrouver la formule de l'impédance à la résonance en utilisant la notation j.



On a $z_1 = R + jL\omega$ et $z_2 = -j/C\omega$

$$Z = \frac{z_1 + z_2}{z_1 \times z_2} = \frac{(R + jL\omega) + (-j/C\omega)}{(R + jL\omega)(-j/C\omega)} = \frac{L/C - jR/C\omega}{R + j(L\omega - 1/C\omega)}$$

Le rapport L/C étant très supérieur à $R/C\omega$, ce dernier terme peut être négligé. Au dénominateur, le terme en j est nul (condition de résonance). On obtient donc la formule :

$$Z = \frac{L}{CR}$$

Hors résonance, l'impédance du circuit parallèle est égale à :

$$Z = \frac{L}{CZ \text{ série}}$$